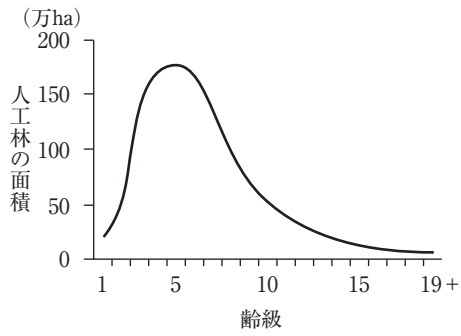
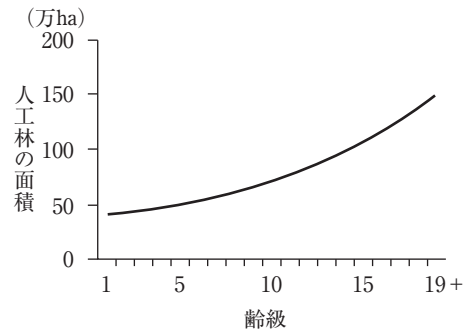


図 次のうち、近年の我が国における人工林の齢級構成を表すグラフとして妥当なのはどれか。

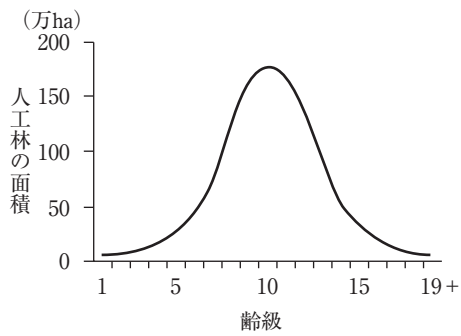
1.



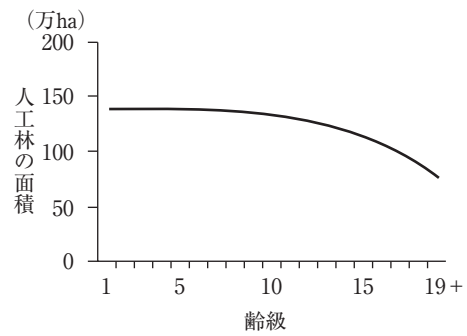
2.



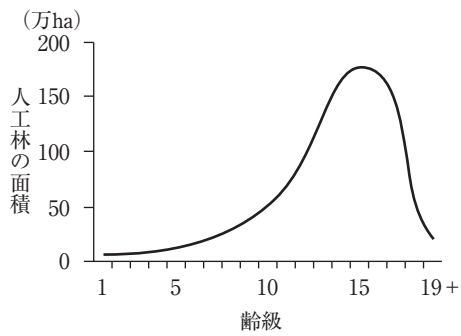
3.



4.



5.



次の文章は、表層崩壊に関する記述である。文章中の空欄 a～c に入るものを正しく組み合せているのはどれか。

表層崩壊は、表層土と基岩との間に密度や透水性、せん断強度などの物理的・力学的性質に著しい差異があり、雨水が  して飽和側方流が発生しやすい斜面の  に発生する傾向が強い。特に豪雨時には、表層崩壊は雨の  に強く支配されて発生する。

- |    | a  | b  | c  |
|----|----|----|----|
| 1. | 拡散 | 凹部 | 強度 |
| 2. | 拡散 | 凸部 | 総量 |
| 3. | 集中 | 凹部 | 強度 |
| 4. | 集中 | 凸部 | 強度 |
| 5. | 集中 | 凸部 | 総量 |